



SEDUC-MT

SECRETARIA DO ESTADO DE EDUCAÇÃO DE MATO GROSSO PROCESSO SELETIVO SIMPLIFICADO

EDITAL Nº 008/2021/GS/SEDUC/MT

TÉCNICO ADMINISTRATIVO EDUCACIONAL (TAE) TAE – INTÉRPRETE DE LIBRAS – INSTRUTOR SURDO

Duração: 03h (três horas)

Leia atentamente as instruções abaixo:

- 01 Você recebeu do fiscal o seguinte material:
a) Este Caderno, com 30 (trinta) questões da Prova Objetiva, sem repetição ou falha, conforme distribuição abaixo:

CONHECIMENTOS BÁSICOS	CONHECIMENTOS ESPECÍFICOS
01 a 10	11 a 30

- b) Um Cartão de Respostas destinado às respostas das questões objetivas.
- 02 Verifique se este material está em ordem e se o seu nome e número de inscrição conferem com os que aparecem no Cartão de Respostas. Caso contrário, notifique imediatamente o fiscal.
- 03 Após a conferência, o candidato deverá assinar no espaço próprio do Cartão de Respostas, com caneta esferográfica de tinta na cor azul ou preta.
- 04 No Cartão de Respostas, a marcação da alternativa correta deve ser feita cobrindo a letra correspondente ao número da questão e preenchendo todo o espaço interno, com caneta esferográfica de tinta na cor azul ou preta, de forma contínua e densa.

Exemplo: A B C D

- 05 Para cada uma das questões objetivas, são apresentadas 4 (quatro) alternativas classificadas com as letras (A, B, C e D), mas só uma responde adequadamente à questão proposta. Você só deve assinalar uma alternativa. A marcação em mais de uma alternativa anula a questão, mesmo que uma das respostas esteja correta.
- 06 Somente depois de decorrida 01 (uma) hora do início da prova, o candidato poderá entregar seu Cartão de Respostas, seu Caderno de Questões e retirar-se da sala de prova. O candidato que insistir em sair da sala de prova, descumprindo o aqui disposto, deverá assinar o Termo de Ocorrência declarando sua desistência do Concurso, que será lavrado pelo Coordenador do Local.
- 07 Ao candidato, será permitido levar seu CADERNO DE QUESTÕES a partir de 01 (uma) hora para o término da prova e desde que permaneça em sala até esse momento.
- 08 Não será permitida a cópia de gabarito no local de prova. Ao terminar a prova de Conhecimentos, o candidato entregará, obrigatoriamente, ao fiscal de sala, o seu CARTÃO DE RESPOSTAS e o seu CADERNO DE QUESTÕES, ressalvado o estabelecido no item 7.
- 09 Reserve os 30 (trinta) minutos finais para marcar seu Cartão de Respostas. Os rascunhos e as marcações assinaladas no Caderno de Questões não serão levados em consideração.
- 10 Os 3 (três) últimos candidatos permanecerão sentados até que todos concluem a prova ou que termine o seu tempo de duração, devendo assinar a ata de sala e retirar-se juntos.

CONHECIMENTOS BÁSICOS

LÍNGUA PORTUGUESA

TEXTO I

Durante o período de isolamento social devido à pandemia da Covid-19, ocorreram incidentes por todo o mundo contra o patrimônio cultural. Ainda no mês de março, na Holanda, a famosa obra "Jardim da Primavera" do pintor Vincent Van Gogh foi roubada do Museu Singer Laren. No Brasil, também há diversos casos de crimes contra o patrimônio cultural, podendo ser citados acontecimentos em Pernambuco, Paraíba e Minas Gerais.

O parque de esculturas Francisco Brennand foi alvo do vandalismo que danificou um dos principais cartões postais da cidade do Recife, considerado patrimônio cultural da cidade e, diante disso, a única informação exposta sobre o ocorrido foi uma nota publicada pela própria instituição e nenhuma medida pública de conservação ou tentativa de preservação do parque foi discutida, além de uma nota da Emlurb afirmando que iria avaliar o caso.

No local, infelizmente, é comum a ocorrência de atos de vandalismo como esse e, devido ao isolamento social e à menor circulação de pessoas na rua, o patrimônio ficou ainda mais exposto. Mas, apesar do conhecimento por parte das autoridades, nenhuma medida foi imposta nesse período de isolamento, nem houve reforço de segurança.

Em João Pessoa, bandidos invadiram a Fundação Casa de José Américo e levaram medalhas de antigos governadores, as quais possuem grandioso valor histórico. Além disso, em Belo Horizonte houve ocorrência de várias ações criminosas de invasão a algumas igrejas e depredação de imagens sagradas.

Em face desses acontecimentos, foram emitidas recomendações pela força-tarefa do Patrimônio Cultural do Ministério Público de Contas do Estado da Paraíba, bem como pelo de Minas Gerais, para o aumento e reforço de segurança nas áreas de patrimônio cultural como forma de prevenir tais acontecimentos.

Em razão da crise que o mundo vive, as ações de recuperação dessas obras se tornam invisíveis pela razão de não serem prioridade para as autoridades governamentais, por isso a existência da recomendação de prevenção desses atos criminosos.

Em tempos de pandemia, em que há preocupações veementes nas esferas da saúde, a segurança de nosso povo não deve ser deixada de lado, bem como a segurança de nossa história, através do patrimônio cultural do povo brasileiro.

Camila da Silva Lira e Júlia Melo Vicente da Silva
(Adaptado de: <https://www.conjur.com.br/2020-mai-09/opiniao-patrimonio-protacao-pandemia>)

1. No primeiro parágrafo, a relação estabelecida entre a primeira e a segunda frase pode ser descrita pelo seguinte par de palavras:

- A) exposição/comparação
- B) introdução/contraposição
- C) particularização/ampliação
- D) generalização/exemplificação

2. No contexto do terceiro parágrafo, o trecho "devido ao isolamento social e à menor circulação de pessoas na rua" tem valor de:

- A) causa
- B) condição
- C) finalidade
- D) concessão

3. Em "apesar do conhecimento por parte das autoridades" (3º parágrafo), a expressão "apesar de" é equivalente a:

- A) tanto quanto
- B) conquanto
- C) ademais
- D) quiçá

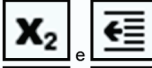

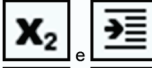





4. A palavra acentuada por ser uma paroxítona é:

- A) única
- B) pública
- C) também
- D) invisíveis

NOÇÕES DE INFORMÁTICA


5. No uso dos recursos do editor de textos Word 2019 BR, um funcionário de nível médio da SEDUC/MT acionou dois ícones existentes na Faixa de Opções, por meio do apontador do *mouse*, com os significados "acionar subscripto" e "aumentar recuo de um parágrafo".

Os ícones acionados são, respectivamente:

- A)  e 
- B)  e 
- C)  e 
- D)  e 

6. A planilha da figura foi criada no Excel 2019 BR. Nela, foram realizados os procedimentos descritos a seguir.

- I. Em E11 foi inserida uma expressão que determina o menor número dentre todos nas células A9, B9, C9, D9, E9 e F9.
- II. Em E13 foi inserida a expressão:
=SE(MOD(E11;2)=1;"VERDE";"AMARELO").

	A	B	C	D	E	F
1						
2						
3						
4						
5						
6						
7						
8						
9	27	23	25	12	14	18
10						
11					12	
12						
13					?	

Nessas condições, a expressão inserida em E11 e o valor mostrado em E13 são, respectivamente:

- A) =MENOR(A9:F9) e VERDE
- B) =MENOR(A9:F9;1) e VERDE
- C) =MENOR(A9:F9) e AMARELO
- D) =MENOR(A9:F9;1) e AMARELO

LEGISLAÇÃO BÁSICA

7. Leonardo é professor e atua no município Betak, onde existem peculiaridades econômicas locais, além da dificuldade de transporte diante da existência de inúmeras habitações localizadas nos vários rios da região. Por força dessa realidade, a escola possui um calendário escolar próprio. Nos termos da Lei nº 9.394/96, o calendário escolar deverá adequar-se às peculiaridades locais, inclusive climáticas e econômicas, a critério do respectivo sistema de ensino, sem com isso reduzir o número de:

- A) horas letivas previstas em lei
- B) docentes previstos no projeto educativo
- C) alunos constantes na unidade escolar
- D) pais participantes do engajamento social

8. Neima e Bappé são casados e têm cinco filhos: Nei, Bap, José, Maria e Betânia. Em determinado momento, os pais passam a ter divergências sobre a educação dos filhos. Nos termos da Lei nº 8.069/90, em caso de discordância quanto ao exercício do poder familiar, os pais poderão recorrer:

- A) ao Conselho Tutelar
- B) à autoridade judiciária competente
- C) ao Comitê Escolar
- D) à organização religiosa própria

NOÇÕES DE ADMINISTRAÇÃO PÚBLICA

9. M. C. Pradel, professora, requereu ao município XCT a expedição de documento contendo informações sobre sua vida funcional, desde a posse até sua última promoção. No documento expedido, constaram várias anotações elogiosas às suas atividades profissionais, bem como uma promoção por merecimento. Sendo documento público em relação aos fatos enunciados, atua o princípio da veracidade que está fundamentado na denominada:

- A) autonomia
- B) certificação
- C) fé pública
- D) exigibilidade

10. Bruna V. Vercintorix requereu à Secretaria de Segurança o acesso à sua ficha cadastral, caso existente, com todos os dados constantes. Não houve qualquer resposta por parte do referido órgão público. Nos termos do sistema de controle judicial das atividades administrativas, o acesso pretendido por Bruna deve ser buscado mediante:

- A) Mandado de Injunção
- B) Ação Popular
- C) Tutela Cautelar
- D) Habeas Data

CONHECIMENTOS ESPECÍFICOS

REDAÇÃO OFICIAL (FEDERAL)

11. Entre os atributos da redação oficial, confere-se destaque ao seguinte aspecto:

- A) estilo autoral
- B) concisão expositiva
- C) subjetividade temática
- D) digressão circunstancial

12. A redação oficial deve orientar-se pela finalidade de:

- A) preferir rebuscamento árido
- B) imitar composição literária
- C) comunicar com máxima clareza
- D) estabelecer-se em registro jornalístico

13. A respeito da utilização do e-mail na comunicação oficial:

- A) transformou-se na principal forma de envio e recebimento de documentos na administração pública
- B) deve-se restringir ao âmbito privado estabelecido por conta em página eletrônica comercial
- C) trata-se de prática a ser evitada pelo caráter sigiloso e intransferível de seu conteúdo
- D) tornou-se objeto de investigação de empresas sensacionalistas de comunicação

14. A regência verbal, tal como prevista no Manual oficial, está corretamente empregada em:

- A) O senador aproveitou-se à indicação para confirmar voto.
- B) O Prefeito declinou às homenagens que lhe eram devidas.
- C) O decreto propõe-se de disciplinar o regime de importações.
- D) O Governador anuiu ao pedido de revisão salarial do sindicato.

NOÇÕES DE ARQUIVO

15. De acordo com a Lei nº 8.159/1991, o conjunto de procedimentos e operações técnicas referentes à sua produção, tramitação, uso, avaliação e arquivamento nas fases corrente e intermediária, visando sua eliminação ou recolhimento para guarda permanente, refere-se ao conceito de:

- A) gestão de documentos
- B) classificação de arquivos
- C) normas de arquivamentos
- D) classificação de documentos

16. O conjunto de documentos em curso ou que, mesmo sem movimentação, constituam objeto de consultas frequentes são os identificados como documentos:

- A) correntes
- B) históricos
- C) permanentes
- D) intermediários

17. Na gestão de documentos da atividade-meio da Administração Pública federal, o código "000" refere-se à classe "administração geral". Assim, a subclasse "030" está relacionada a:

- A) pessoal
- B) material
- C) patrimônio
- D) comunicações

18. Os seguintes documentos são guardados no arquivo permanente:

- A) ofícios em elaboração
- B) processos de admissão em curso
- C) atas de reunião que necessitam de consultas frequentes
- D) documentos imprescritíveis e sem vigência administrativa

RACIOCÍNIO LÓGICO E MATEMÁTICO

19. Hoje, dois terços da metade da idade de João correspondem à idade dele há dez anos. Se hoje João tem n anos, a soma dos algarismos de n é igual a:

- A) 4
- B) 5
- C) 6
- D) 7

20. Durante uma aula de Economia, o professor disse que “Se os juros bancários são baixos, então a inflação é alta”. Uma proposição logicamente equivalente à do professor está indicada na seguinte opção:

- A) Se a inflação não é alta, então os juros bancários não são baixos.
- B) Se os juros bancários não são baixos, então a inflação não é alta.
- C) Os juros bancários são altos e a inflação é baixa.
- D) Se a inflação é baixa, então os juros bancários são baixos.

21. Observe a seguinte sequência de números naturais:

(5, 7, 11, 17, 27, 43, 69, 111, x)

Os elementos dessa sequência, a partir do terceiro, foram obtidos a partir de um determinado padrão. Segundo esse padrão, o valor de x é igual a:

- A) 179
- B) 177
- C) 181
- D) 183

22. Uma caixa contém 50 bolas brancas e 50 bolas pretas, num total de 100 bolas. Retirando-se x bolas pretas, e não acrescentando mais nenhuma bola, a porcentagem de bolas brancas na caixa passa a ser de 62,5%. O valor de x é:

- A) 10
- B) 20
- C) 30
- D) 40

RELAÇÕES INTERPESSOAIS

23. Rosenberg (2019), na obra “Comunicação Não Violenta”, afirma que o aprendizado da forma de pensar e de se comunicar irá determinar a maneira de se dialogar com outra pessoa. No ambiente escolar, podem ser aprendidas estratégias de comunicação argumentativa que motivem o aluno a contribuir para o bem-estar dos outros e de si mesmo, o que permitirá que ele desenvolva a capacidade de dialogar de forma respeitosa e colaborativa com o objetivo de superar:

- A) conflitos
- B) acordos
- C) normas
- D) afetos

24. A capacidade de ouvir se complementa com o ato de olhar e observar a expressão facial e corporal de quem fala, pois a comunicação tem dimensões verbal e não verbal, que solicitam a atenção interessada do ouvinte. Este envolvimento sensorial do ouvinte é muito importante para quem fala porque toda pessoa tem a necessidade de se sentir efetivamente:

- A) ignorada
- B) compreendida
- C) julgada
- D) examinada

25. O funcionário de uma escola pública deve ser capaz de realizar um atendimento à população com um tratamento atencioso e gentil que responda efetivamente às necessidades de informação de alunos e seus familiares.

O que caracteriza um bom atendimento é quando de fato se responde ao cidadão de modo:

- A) falho
- B) insatisfatório
- C) satisfatório
- D) parcial

26. O técnico administrativo educacional deve estar atento à relação interpessoal que estabelece com a comunidade escolar, interagindo com os educadores, os alunos e seus familiares de modo a facilitar, entre todos, o processo de:

- A) persuasão
- B) integração
- C) competição
- D) representação

ESTATÍSTICA BÁSICA

27. Uma amostra de 10 alunos de uma turma de sexto ano do ensino fundamental teve suas notas de matemática analisadas. Elas foram 7,0 ; 8,0 ; 6,0 ; 7,0 ; 9,5 ; 6,5 ; 7,5 ; 8,0 ; 10,0 e 5,5. A variância dessa distribuição de valores é:

- A) 1,85
- B) 2,06
- C) 4,73
- D) 7,50

28. Foram registrados os tempos de secagem, em horas, de uma marca específica de tinta PVA, como demonstra a tabela a seguir.

2,0	2,5	3,7
2,0	3,2	4,3
2,5	2,8	4,0

Essas medidas foram realizadas a partir de uma amostra aleatória. A média amostral e a mediana amostral desses valores são, respectivamente:

- A) 3,0h e 2,8h
- B) 3,0h e 3,2h
- C) 2,8h e 3,0h
- D) 2,8h e 3,2h

29. Foi realizada uma pesquisa em que se tinha o interesse de conhecer o rendimento, expresso em gramas por metro quadrado, de um determinado produto utilizado para impermeabilização de pisos. É correto afirmar que a variável de estudo dessa pesquisa é classificada como:

- A) qualitativa nominal
- B) quantitativa discreta
- C) qualitativa ordinal
- D) quantitativa contínua

30. Os estatísticos usam a palavra experimento para descrever qualquer processo que gere um conjunto de dados. O conjunto de todos os resultados possíveis em um experimento estatístico é chamado de:

- A) estudos observacionais
- B) população
- C) espaço amostral
- D) amostra

RASSCUNHO